

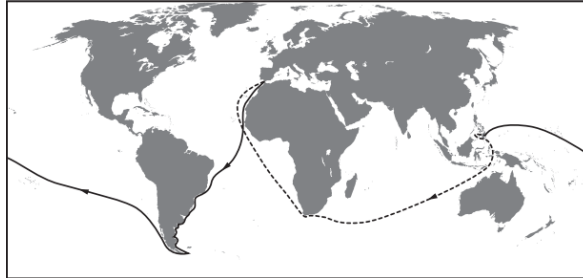
# ЕКСТЕРНАТ. 11 клас. Географія.

## Підсумкова контрольна робота

Робота виконується на бланку відповідей. **ОБОВ'ЯЗКОВО** на початку роботи написати ПІБ учня. Відповідь надсилаємо на електронну пошту [kravchenkosvetlana188@gmail.com](mailto:kravchenkosvetlana188@gmail.com)

### I. Завдання 1–10 мають по чотири варіанти відповіді, з яких лише один правильний.

1. На малюнку позначено шлях експедиції, яку очолював:



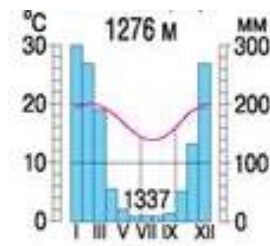
- А. Бартоломеу Діаш;
- Б. Іван Крузенштерн;
- В. Фернан Магеллан;
- Г. Христофор Колумб.

2. Які з цих форм рельєфу формують внутрішні сили Землі?

- А. Яри;
- Б. Бархани;
- В. Вимоїни;
- Г. Гори.

3. Укажіть острів, клімат якого відображений на кліматодіаграмі:

- А. Калімантан;
- Б. Мадагаскар;
- В. Куба;
- Г. Гренландія.



4. Водоспад, відкритий Д. Лівінгстоном у 1855 році під час подорожі по річці Замбезі. Місцеві племена називають його Мозіоатунья, що означає «Гуркітливий дим».

- А. вдсп. Ауґрабіс;
- Б. вдсп. Мерчісон;
- В. вдсп. Вікторія;
- Г. вдсп. Лівінгстона.

5. Який із періодів належить до палеозойської ери?

- А. Юрський;
- Б. Палеогеновий;
- В. Кам'яновугільний;
- Г. Крейдовий.

6. Найбільші в Україні запаси ртутних руд залягають у межах:

- А. Українського щита;
- Б. Карпатської складчастої споруди;
- В. Передкарпатського передгірного прогину;
- Г. Донецької складчастої споруди.

7. Які культури називають «трьома хлібами людства»:

- А. Кукурудза, рис, пшениця;
- Б. Пшениця, жито, ячмінь;
- В. Рис, жито, соя;
- Г. Просо, сорго, кукурудза.

8. Якісний стрибок у розвитку продуктивних сил, що відбувається внаслідок поєднання процесів розвитку науки та техніки, - це:

- А. Інтенсифікація сільського господарства;
- Б. Технологічний процес;
- В. Інтенсифікація виробництва;
- Г. Науково-технічна революція.

9. Найпоширеніша у світі форма державного правління

- А. Парламентська республіка;
- Б. Монархія;
- В. Республіка;
- Г. Теократична монархія.

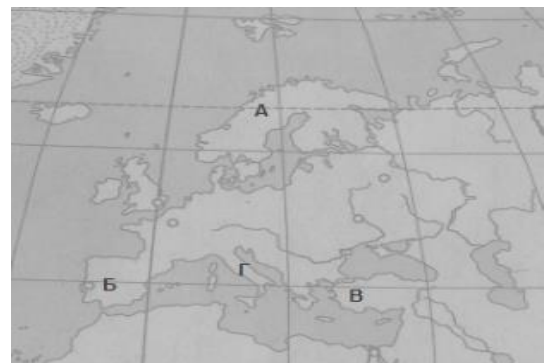
10. Які чинники зумовили розвиток алюмінієвої промисловості в країнах Перської затоки (Об'єднані Арабські Емірати, Бахрейн, Катар, ін.)?

- А. Приморське розташування країн, дешеві енергоресурси;
- Б. Розвиток літакобудування в цих країнах, іноземні інвестиції;
- В. Домінування пустельних ґрунтів, надлишок трудових ресурсів;
- Г. Будівництво потужних ГЕС, значні ресурси прісної води.

**II. У завданнях 11–14 до кожного з чотирьох рядків інформації, позначених цифрою, доберіть один правильний, на Вашу думку, варіант, позначений буквою.**

11. Установіть відповідність між географічними об'єктами на карті і їх назвами

- 1. Півострів Мала Азія;
- 2. Апеннінський півострів;
- 3. Піренейський півострів;
- 4. Аравійський півострів;
- 5. Скандинавський півострів.



12. Установіть відповідність між природними комплексами і поняттями, які їх характеризують:

- |                           |   |
|---------------------------|---|
| 1. Південний берег Криму; | А. Тетіс, Джарилгач, шар сірководню;            |
| 2. Чорне море;            | Б. Сиваш, Арабатська стрілка, півострови, коси; |
| 3. Азовське море;         | В. Аюдаг, Шибляк, амфітеатри;                   |
| 4. Закарпатська низовина; | Г. Термальні води, Тиса, Уж;                    |
|                           | Д. Говерла, полонини, Синевир.                  |

13. Установіть відповідність між галузями промисловості та містами, які відомі в світі як «столиці» розвитку цих галузей:

- |                             |  |
|-----------------------------|--|
| 1. Автомобілебудування      | А. Ніцца(Франція), Майамі(США), Женева   |
| 2. Літакобудування          | Б. Лодзь(Польща), Шанхай(Китай), Іваново(Росія)  |
| 3. Текстильна промисловість | В. Детройт(США), Нагоя (Японія), Турин(Італія)   |
| 4. Сталеплавильна пром-ть   | Г. Сіетл(США), Тулуза(Франція), Воронеж(Росія)<br>Д. Пітсбург(США). Дуйсбург(ФРН), Бокаро(Індія) |

14. Встановіть відповідність між країною та сільськогосподарською культурою на вирощуванні якої країна спеціалізується.

- |                |                         |
|----------------|-------------------------|
| 1. Кот-д'Івуар | А. чай                  |
| 2. Україна     | Б. цукрова тростина     |
| 3. Бразилія    | В. соняшник             |
| 4. Шри-Ланка   | Г. какао-боби<br>Д. соя |

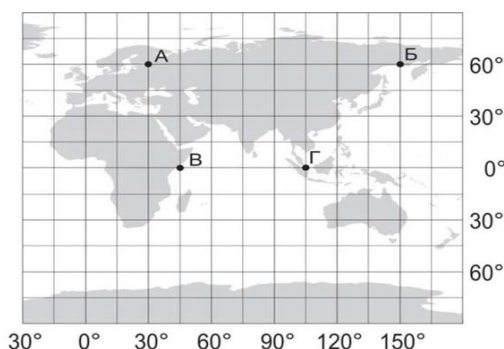
**III. Завдання 15–16 мають по сім варіантів відповіді, з яких лише три правильні.**

15. Які три латиноамериканські країни належать до «Великої трійки» індустріальних лідерів регіону?  
1. Аргентина; 2. Колумбія; 3. Мексика; 4. Куба; 5. Бразилія; 6. Перу; 7. Венесуела.

16. Порівняйте місце Франції та України в міжнародному поділі праці. Визначте види діяльності, для розвитку яких в Україні вигідно використати сучасні технології з Франції та досвід їх упровадження в цій країні.

1. Освоєння родовищ нафти й газу на морському шельфі;
2. Залучення інвестицій у будівництво припливних електростанцій;
3. Упровадження безпечних технологій зберігання радіоактивних відходів;
4. Кооперування у виробництві авіаційної техніки та освоєнні космосу;
5. Переведення тваринництва на екстенсивний шлях розвитку;
6. Прокладення міжконтинентальних підводних трубопроводів
7. розвиток інфраструктури в туристичних центрах і районах

**IV. Розв'яжіть завдання 17-18, використавши наведену карту.**



17. Визначте географічну широту та довготу точки А і В.

18. Визначте відстань у кілометрах від точки А до точки Б ( $1^\circ$  дуги паралелі дорівнює 55,8 кілометрів).

**Бланк відповіді**

Відповідь надсилаємо за електронною адресою  
[kravchenkosvetlana188@gmail.com](mailto:kravchenkosvetlana188@gmail.com)

**Підсумкова контрольна робота  
з географії  
за курс старшої школи  
учня (учениці) 11 класу (екстернат)  
Краматорського ЕГ ліцею № 8 імені Василя Стуса**

---

*(Прізвище, ім'я, по батькові)*

I. Завдання з вибором однієї правильної відповіді (1-10)

1	2	3	4	5	6	7	8	9	10

II. Завдання на визначення відповідності (11-14)

	11	12	13	14
1		1	1	1
2		2	2	2
3		3	3	3
4		4	4	4
5				

III. Завдання з вибором трьох правильних відповідей (15-16)

15			16		

IV. Розв'язок завдань 17-18. (ДОПИСАТИ)